


5 Nombre y apellidos: _____ Fecha: _____ Ciencias Sociales 1.º R


1 Escribe el nombre del paisaje que corresponda.

costa - montaña



montaña costa

2 Colorea así:
montañas → marrón río → azul prado → verde



3 Relaciona.

acantilado	playa	puerto
arena	barcos	rocas

60 Área fotocopiable

REFUERZO

5 Nombre y apellidos: _____ Fecha: _____ Ciencias Sociales 1.º R

4 Escribe los nombres de los elementos del paisaje de costa.

acantilado - faro - puerto



faro puerto acantilado

5 Escribe qué objetos podemos encontrar en un paisaje de costa.



Cubo, toalla, barca, conchuela

6 Completa la oración.

El gramito es una roca resistente. Se utiliza para la construcción de edificios.

59 Área fotocopiable

REFUERZO

5 Nombre y apellidos: _____ Fecha: _____ Ciencias Sociales 1.º A

1 Escribe si es un paisaje de **costa** o de **montaña**.


Es un terreno con valles y bosques. montaña

Es un terreno junto al mar. costa

2 Dibuja según el código:

En la playa → una sombrilla En la isla → un faro

En el puerto → una barca



3 Escribe **sí** o **no** en estas oraciones relacionadas con los paisajes andaluces.

Hay costas con playas y acantilados. No

Sierra Nevada es una zona llana. No

Doñana es un parque nacional. Si

El valle del Guadalquivir es una zona llana. No

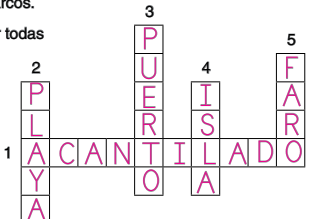
60 Área fotocopiable

AMPLIACIÓN

5 Nombre y apellidos: _____ Fecha: _____ Ciencias Sociales 1.º A

4 Completa el crucigrama.

- Costa alta y rocosa.
- Costa baja y con arena.
- Lugar donde atracan los barcos.
- Tierra rodeada de agua por todas partes.
- Ilumina la costa.



5 Adivina qué tipo de roca es y dibújala.

Rimo con ardilla, también con masilla. Sirvo para hacer ladrillos pero no para tejadillos.

Es la arcilla

6 Explica cómo debemos comportarnos cuando visitamos un parque nacional.

Debemos respetar las normas y ser respetuoso con el entorno.

61 Área fotocopiable

AMPLIACIÓN

5 Nombre y apellidos: _____ Fecha: _____ Ciencias Sociales 1.º EV

1 Relaciona.

playa → COSTA ← isla
 puerto → COSTA ← faro
 carretera con curvas → MONTAÑA ← estación de esquí

2 Ordena las sílabas y clasifica las palabras.

can do la ti a que bos ro fa lle va ya pla ña ta mon

COSTA	MONTAÑA
acantilado	bosque
playa	valle
faro	montaña

62 Área fotocopiable

5 Nombre y apellidos: _____ Ciencias Sociales 1.º EV

3 Rodea en cada caso lo que corresponda.

Granito: construcción de edificios - tejados - cemento - ladrillos
 Caliza: tejados - ladrillos - cemento - construcción de edificios
 Arcilla: cemento - ladrillos - construcción de edificios - tejados

4 Colorea las montañas de marrón; la meseta, de verde; y las zonas más llanas, de amarillo.

5 Explica cómo son los parques nacionales de Andalucía.

Tienen bonitos paisajes y en ellos se protegen diferentes animales y plantas que pueden ser únicas en la Tierra.

63 Área fotocopiable